









# ザンリーグプロ会員 筆記試験

制限時間 40分

【解答記入例】

  ⇒ 一九    ⇒ 4 5 6    ⇒ ⑦⑧⑨

       ⇒ 東南西北白発中花

上記の通り記入すること

- ・問題は全てザンリーグ競技規定に拠るものとする
- ・誤植等の質問以外は一切認めない
- ・試験中の私語は一切禁止とする

問題1 (2点×10) 次のザンリーグに関する事柄について、設問の指示通りに答えよ。

- ① ザンリーグの支部を5つ答えよ。
- ② ザンリーグを運営する会社の正式名称を答えよ。
- ③ ザンリーグを運営する会社の代表者の名前をフルネームで答えよ。
- ④ ザンリーグの会長の名前（登録名）をフルネームで答えよ。
- ⑤ 第8期ザン王の名前（登録名）をフルネームで答えよ。
- ⑥ 2025後期プロリーグ優勝者の名前（登録名）をフルネームで答えよ。
- ⑦ 2025年後期に新設されたプロ会員限定の棋戦の正式名称と読み方を答えよ。
- ⑧ ⑦において、第1期の優勝者の名前（登録名）をフルネームで答えよ。
- ⑨ 通常のザンリーグルールとザンプロルールで異なる点を2つ答えよ。
- ⑩ ザン王を2回以上獲得した選手は過去何名いるか答えよ。

問題2 (3点×5) 以下のチップ状況および点数状況において、設問の条件を満たすアガリの最低点数を答えよ。ただし、下記に至るまで祝儀の移動はないものとする。

南三局 東家+22枚 29000 南家△7枚 47000 西家△15枚 74000

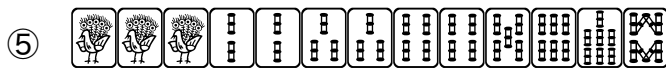
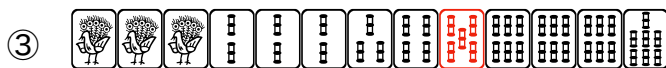
- ① 南家がこの半荘において1位で対局終了となるツモ条件
- ② 南家が一発・裏ドラ祝儀を伴わず、総合1位で対局終了となるツモ条件
- ③ 東家が総合1位で対局終了となるツモ条件
- ④ 南家が祝儀1枚オールを伴う、総合1位で対局終了となるツモ条件
- ⑤ 西家が祝儀3枚オールを伴う、総合1位で対局終了となるツモ条件



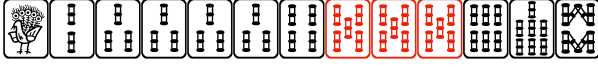


問題3 (3点×5) 以下のチップ状況および点数状況において、設問の条件を満たす数字を答えよ。ただし、下記に至るまで祝儀の移動はないものとする。

南三局二本場・供託1 東家△19枚 119000 南家+25枚 6000 西家△6枚 24000

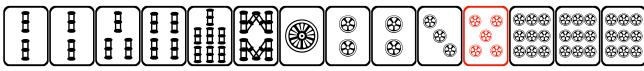

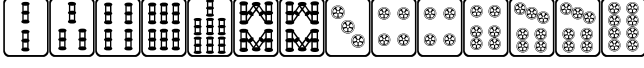






- ① 西家が総合1位で対局終了となる数え役満をツモ和了した場合に必要な一発・裏ドラ祝儀の必要枚数 (単位：オール)
- ② 南家が総合成績において+27枚で終えるために必要な跳満をツモ和了した場合に必要な一発・裏ドラ祝儀の必要枚数 (単位：オール)
- ③ 西家が総合成績において+4枚で終えるために必要な三倍満をツモ和了した場合に必要な一発・裏ドラ祝儀の必要枚数 (単位：オール)
- ④ 東家が総合1位で対局終了となる飛ばし手を南家からロン和了した場合に必要な一発・裏ドラ・飛ばし祝儀の必要枚数
- ⑤ 東家が総合1位で対局終了となる飛ばし手を西家からロン和了した場合に必要な一発・裏ドラ・飛ばし祝儀の必要枚数

問題4 (2点×10) 次の牌姿が何待ちかを答えよ。ただし、4枚使いの牌は書かないこと。



- ⑥ 
- ⑦ 
- ⑧ 
- ⑨ 
- ⑩ 

問題 5 (2点x5) 次の牌姿においてテンパイチャンスをもっと多くする一打を全て答えよ。

- ① 
- ② 
- ③ 
- ④ 
- ⑤ 
- ⑥ 
- ⑦ 
- ⑧ 
- ⑨ 
- ⑩ 